



Colégio Qi

PARA A VALIDADE DO QID, AS RESPOSTAS DEVEM SER APRESENTADAS EM FOLHA PRÓPRIA, FORNECIDA PELO COLÉGIO, COM DESENVOLVIMENTO E SEMPRE A TINTA. TODAS AS QUESTÕES DE MÚLTIPLA ESCOLHA DEVEM SER JUSTIFICADAS.

DATA DE ENTREGA: 31 / 05 / 2017

1. **(1,0)** Leia o trecho abaixo a resposta ao que se pede.

Quando Maomé fixou residência em Yatrib, teve início uma fase decisiva na vida do profeta, em seu empenho de fazer triunfar a nova religião. A cidade de Yatrib, que doravante seria chamada Medina (cidade do profeta), tornou-se sede ativa de uma comunidade da qual Maomé era o chefe espiritual e temporal.

Cite UMA SEMELHANÇA e UMA DIFERENÇA entre a religião muçulmana e a religião cristã durante a Idade Média.

O texto se refere às questões 2, 3 e 4

Essencialmente urbana, a civilização muçulmana apresenta uma unidade imposta pela religião, embora combine contribuições culturais de árabes, de povos conquistados e da civilização grega.

Em suas cidades, como Bagdá, Damasco, Córdoba, Sevilha, etc. a Arte expressou-se principalmente na decoração: a proibição religiosa de reproduzir a figura humana limitou a Pintura e a estatuária. Palácios, mesquitas, minaretes (torres em que o muezim chama os crentes para a oração) e mansões particulares caracterizam-se pela profusão de arcos de ferradura e finas colunas, decoradas ricamente, por suas numerosas janelas e por seus pátios interiores. A Arte decorativa é abstrata, predominando os arabescos (figuras geométricas entrelaçadas) e a representação de plantas e letras do alfabeto árabe. (...)

Nas Ciências, com marcado sentido prático, valeram-se da tradução de textos hindus e gregos, para concretizar importantes realizações. É bem verdade que muitas invenções atribuídas aos árabes e por eles transmitidas aos ocidentais foram na realidade criações de outras sociedades: é o caso do papel, da pólvora, da bússola e do astrolábio, surgidos na China; ou, então, dos algarismos arábicos e da álgebra, que foram realizações hindus. Aos árabes cabe o mérito de torná-los conhecidos na Europa Ocidental. No entanto, a Ciência muçulmana não foi apenas intermediária do Ocidente-Oriente: em vários campos, consideráveis conquistas ocorreram.

(Adaptado de: AQUINO, Rubim S. Leão de. *História das Sociedades: das comunidades primitivas às sociedades medievais*. Rio de Janeiro, Ao Livro Técnico, 2003.)

2. **(1,0) EXPLIQUE** por que o autor define a arte decorativa islâmica como “abstrata”.
3. **(1,0) APONTE** que atividade econômica praticada pelos árabes contribuiu para que eles tivessem contato com diversas culturas e saberes.
4. **(1,0) IDENTIFIQUE** duas contribuições científicas difundidas pelos árabes que se encontram citadas no texto acima.

O texto se refere às questões 5, 6 e 7

“Em nome de Alá, o compassivo, o misericordioso, isto é o que Khalid ibn al-Walid [um chefe militar muçulmano] garantirá aos habitantes de Damasco [capital do Império Persa]:

Ele promete garantir-lhes as vidas, as propriedades e as igrejas. As muralhas de sua cidade não serão demolidas, nem muçulmano algum se alojará em suas casas. Ademais lhes oferecemos o pacto de Alá e dos crentes. Enquanto pagarem o imposto, apenas lhes sucederão benefícios.”

(Citado em Joelza Rodrigues. **História em documento**. p. 50.)

5. **(1,0) INDIQUE** e **EXPLIQUE** dois fatores que motivaram a expansão islâmica nos séculos VII e VIII.

6. **(1,0) TRANSCREVA** do texto um trecho que exemplifique o tratamento dado pelos islâmicos aos povos conquistados.
7. **(1,0) IDENTIFIQUE, utilizando suas próprias palavras,** uma obrigação devida pelos povos dominados aos conquistadores árabes, que se encontra citada no texto acima.
8. **(1,0)** "No Oriente Médio, em uma península árida banhada pelo Oceano Índico e pelo mar Vermelho, nasceu em 630 o Islão, como resultado das guerras santas empreendidas por Maomé. Em pouco tempo, se expandiria por extenso território, conquistando terras na Ásia, na África e na Europa (...). Em terras do Islão, era difícil separar o Estado da religião (...), dos que acreditam em um só deus e obedecem a um só chefe, Maomé, e a seus sucessores, os califas."

PILETTI e ARRUDA. "Toda a História". 8. ed São Paulo: Ática, 2000 p.114.

Cite e explique as duas correntes ideológicas que existiam e ainda existem entre os seguidores do islamismo relacionados ao papel dos líderes religiosos.

Com base no texto, responda à questão 9

*Segundo a crença muçulmana, em 610 Maomé teve uma visão do anjo Gabriel – o mesmo que, teria lhe dito que “havia só um Deus e um só profeta, Maomé”. Profundamente impressionado com a visão, Maomé começou a pregar uma nova religião, o islã, que fundia crenças árabes com elementos retirados do **cristianismo** e do **judaísmo**. Essas pregações logo conquistaram adeptos. Mas também atraíram inimigos. A maioria das tribos árabes da região acreditava em muitos deuses e adorava seus ídolos em um santuário de Meca conhecido como Caaba.*

(BOULOS JUNIOR, Alfredo. Coleção História Sociedade e Cidadania.)

9. **(1,0) EXPLIQUE** porque a cidade de Meca era tão importante para os povos árabes.

Com base no texto, responda à questão 10

O Jihad e a expansão do islamismo

O termo *jihad*, central na prática do islamismo, tem sido associado, seja pelo Ocidente, seja por algumas correntes do próprio islamismo, ao conceito cristão de Guerra Santa. O conceito de *jihad* é utilizado com forma de definir um esforço coletivo para levar os princípios da religião às comunidades não islâmicas. Assim, tem servido muitas vezes como justificção para as ações de violência contra comunidades não islâmicas. No entanto, o conceito original nada tem a ver com esse tipo de ação. (adaptado <http://mb-soft.com/believe/ttom/islam.htm>)

10. **(1,0) EXPLIQUE** como o conceito de jihad pode ter favorecido a expansão da fé islâmica.

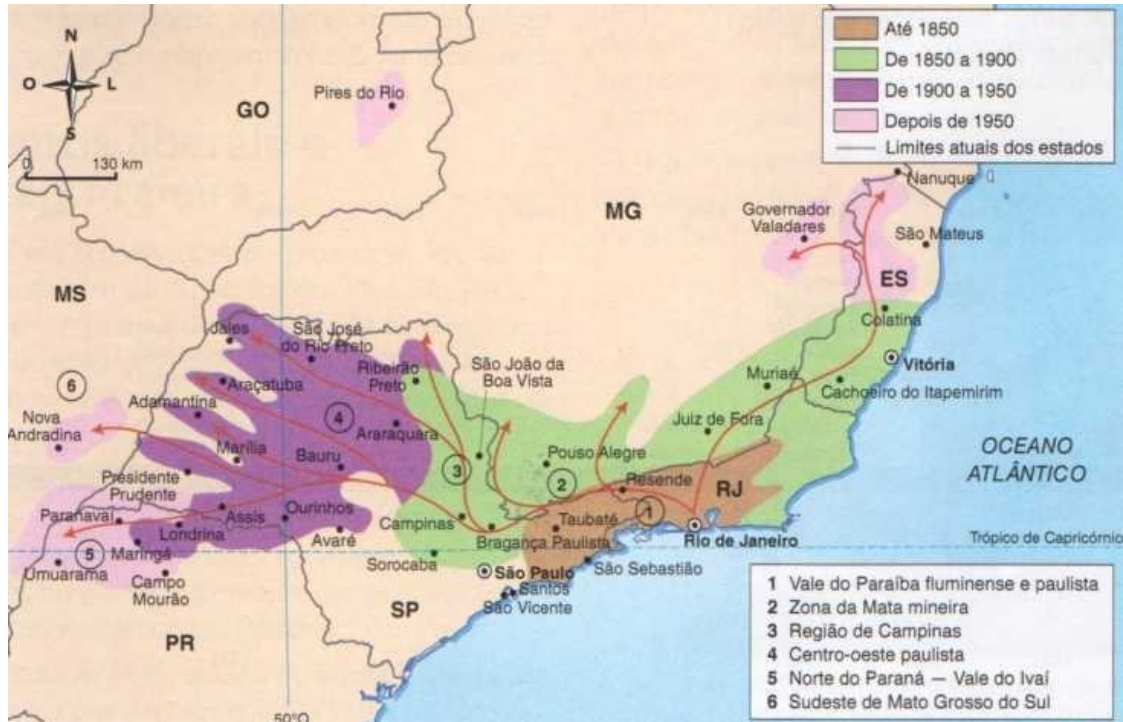


Colégio Qi

PARA A VALIDADE DO QID, AS RESPOSTAS DEVEM SER APRESENTADAS EM FOLHA PRÓPRIA, FORNECIDA PELO COLÉGIO, COM DESENVOLVIMENTO E SEMPRE A TINTA. TODAS AS QUESTÕES DE MÚLTIPLA ESCOLHA DEVEM SER JUSTIFICADAS.

DATA DE ENTREGA: 31 / 05 / 2017

1. **OBSERVE** o mapa a seguir:



O mapa indica a expansão das regiões cafeeiras nos séculos XVIII e XIX.

As manchas de terra roxa em São Paulo desempenharam um papel importante no auge da cultura cafeeira, sobre essa afirmação **RESPONDA:**

- a) **(0,5)** O solo de terra roxa é formado a partir da decomposição de um mineral. **INDIQUE** que mineral é esse.
- b) **(0,5)** **EXPLIQUE** por que as manchas de terra roxa foram fundamentais para o aumento da produção do café em São Paulo.

2. (1,0) **LEIA** o texto **OBSERVE** a foto a seguir:

Fazia quase dois anos que ocorrera o crash na Bolsa de Valores de Nova York, em outubro de 1929. Mas os estragos provocados pela crise ainda eram sentidos em todo o planeta – e também no Brasil. Em junho de 1931, uma nuvem de fumaça gigantesca, que vinha de uma enorme fogueira, pairava sobre a cidade de Santos, no Litoral de São Paulo, por onde escoava boa parte das exportações do café brasileiro. Acesa durante as festas juninas, a fogueira duraria até o fim do ano – mas tinha pouco a ver com a comemoração de São João. Ela fora iniciada para queimar os estoques de café, então responsável por 70% das exportações brasileiras, que se acumularam com a retração do mercado externo. Enquanto o fogo durou, consumiu milhões de sacas. O aroma do café torrado era tão forte que ultrapassava as fronteiras municipais. Era contido apenas pelas encostas da Serra do Mar, que se estende pela costa paulista.



Foto: Acervo Laire José Giraud

EXPLIQUE a relação entre a crise do café e industrialização do Brasil.

3. (1,0) **LEIA** com atenção:

"(...) é responsável pela maior produção brasileira de minérios de ferro e manganês (...). Ao seu redor ou diretamente vinculadas à disponibilidade de seus minérios, encontram-se diversas indústrias siderúrgicas, responsáveis pela produção de aço. Há dois canais para o escoamento do minério (...) através de Estrada de Ferro Vitória-Minas (...) e através da Estrada de Ferro Central do Brasil (...).

"(SENE, E. & MOREIRA, J. C. "Geografia Geral e do Brasil. Espaço Geográfico Globalização". São Paulo: Scipione, 1998. p. 214.)




INDIQUE o nome da área de extração mineral a que o texto e o mapa referem-se:

4. As imagens mostram a situação do local da Barragem de Fundão, em Mariana/MG, antes e depois do acidente de 05 de novembro de 2015. Essa ocorrência consistiu no rompimento da barragem, que resultou em mortes e na liberação de milhões de toneladas de lama, que acabaram por atingir o distrito de Bento Rodrigues, no vale do rio Doce.



Google Earth. 2016. Adaptado.

- a) **(0,5) EXPLIQUE** do ponto de vista econômico, qual é a importância da região de Mariana/MG onde se encontrava a referida barragem.
- b) **(0,5) INDIQUE** uma consequência do acidente em relação ao meio ambiente
5. (1,0) Este vale está localizado entre as serras do Mar e Mantiqueira. Foi ocupada por extensos cafezais no século passado, atualmente se caracteriza por atividades pecuárias e grande desenvolvimento urbano- industrial.



INDIQUE o nome desse vale.

6. **(1,0)** Dentre os domínios morfoclimáticos brasileiros, podemos destacar o de Mares de Morros como o mais alterado em relação aos demais. A vegetação típica deste domínio, a Mata Atlântica, se encontra reduzida drasticamente, restando apenas alguns resquícios ao longo no litoral; umas regiões com concentração vegetal maior do que outras. Observe o mapa abaixo:

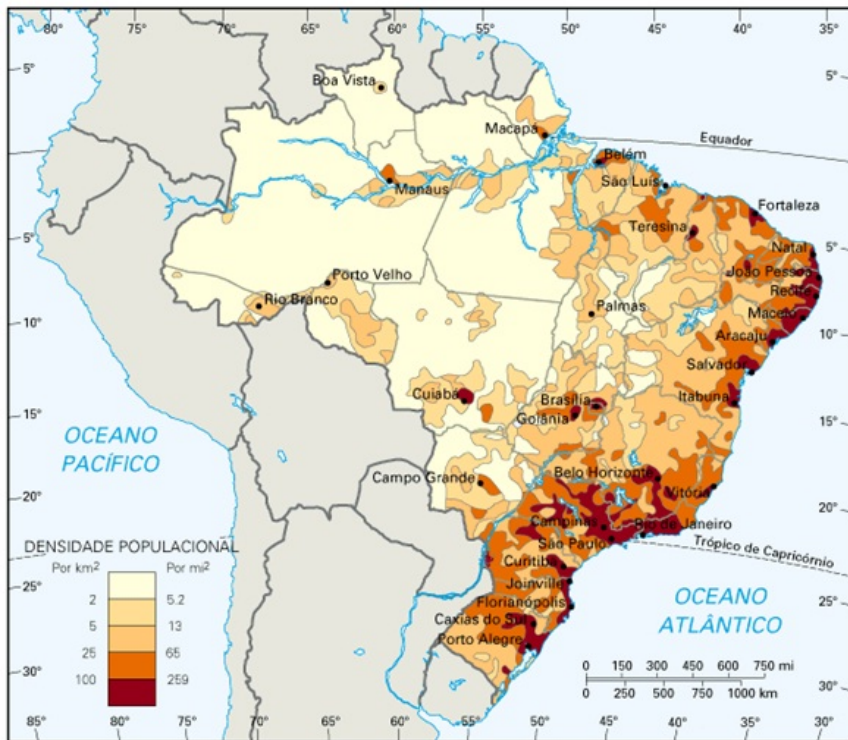
Evolução da mata Atlântica



Fundação SOS mata Atlântica/INPE/ISA. Atlas de evolução das remanescentes florestais e ecossistemas associados da mata Atlântica, 1998.

EXPLIQUE os motivos para alteração expressiva da cobertura vegetal da Mata Atlântica.

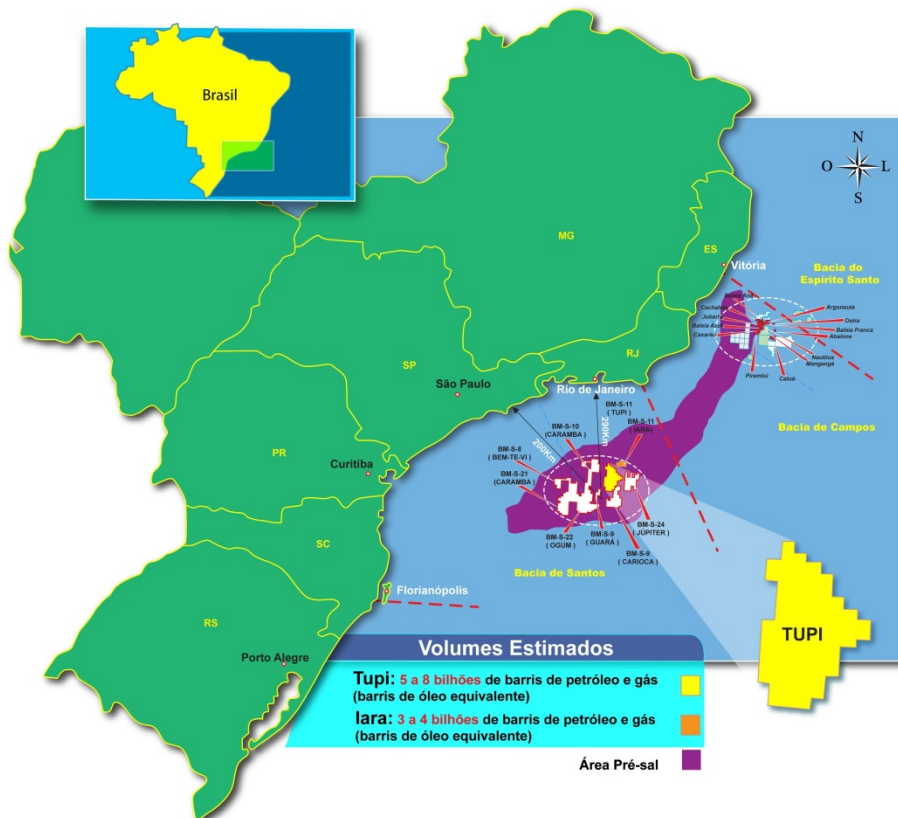
7. (1,0) O mapa a seguir indica a densidade demográfica do Brasil.



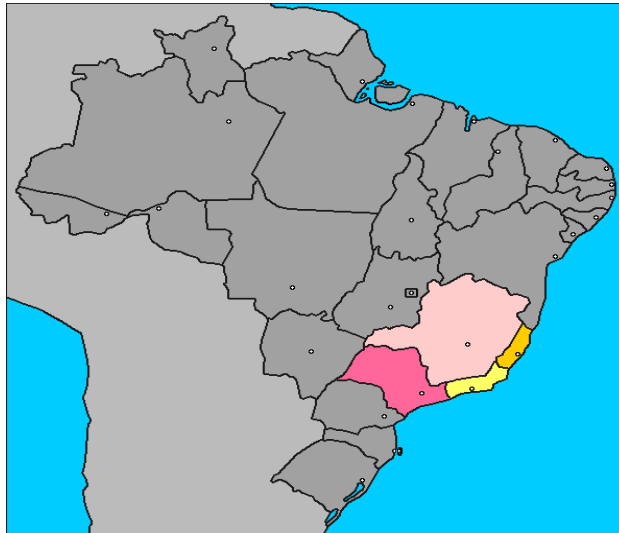
O sudeste é a região mais populosa e povoada do país.

DIFERENCIE os termos *populoso* e *povoado*.

8. O mapa a seguir apresenta a região com maior produção de petróleo do país.



- a) (0,5) **INDIQUE** o nome da principal bacia sedimentar costeira na história da extração de petróleo do país.
- b) (0,5) **INDIQUE** qual foi a descoberta do Brasil possibilitou que a produção de petróleo do país seja a maior do mundo, excetuando-se os países que integram a Organização dos países exportadores de Petróleo.
9. **OBSERVE** o mapa e o texto a seguir:



“Sua economia é a mais desenvolvida e industrializada dentre as economias das cinco regiões brasileiras, concentrando mais da metade da produção industrial do país. Possui uma grande produção agrícola, além de uma enorme reserva de ferro, manganês e petróleo.”

- a) (0,4) **INDIQUE** qual região brasileira é destacada no texto e no mapa.
- b) (0,6) **INDIQUE** quais estados da federação formam essa região.
10. (1,0) **OBSERVE** o quadro “operários” de Tarsila do Amaral.



EXPLIQUE por que o Brasil é um país de industrialização tardia.