



Colégio Qi

PARA A VALIDADE DO QID, AS RESPOSTAS DEVEM SER APRESENTADAS EM FOLHA PRÓPRIA, FORNECIDA PELO COLÉGIO, COM DESENVOLVIMENTO E SEMPRE A TINTA. TODAS AS QUESTÕES DE MÚLTIPLA ESCOLHA DEVEM SER JUSTIFICADAS.

DATA DE ENTREGA: 31 / 05 / 2017

Após observar o mapa **RESPONDA** a questão:



1. **EXPLIQUE** porque as primeiras civilizações da humanidade se concentraram nas proximidades dos grandes rios.

Leia o texto e responda as questões 2 e 3

Desde 3500 a. C., aproximadamente, vários povos lutaram pelo controle das terras férteis da Mesopotâmia. Os sumérios, os babilônios, os caldeus, os amoritas, os assírios ficaram conhecidos como povos fluviais.

(Adaptado TOLEDO E. DREGUER R. Nova História: conceitos e procedimentos. Editora: ATUAL, São Paulo, 2009)

2. (1,0) **EXPLIQUE** porque as civilizações da Mesopotâmia eram chamadas de povos fluviais.
3. (1,0) **CITE** o nome dos rios mais importantes da região da Mesopotâmia.

Leia o texto e responda as questões 4 e 5

Situada na parte sul da Mesopotâmia, a Suméria é considerada a Civilização mais antiga da História. Dizemos “da História” porque, para facilitar os estudos, se passou a considerar Pré-História tudo quanto aconteceu antes da invenção da Escrita e História o que vem depois. É assim que, por vezes, numa mesma época havia civilizações ainda na Pré-História e outras, usando já a Escrita, que são consideradas como históricas. No tempo da Suméria, existiram outras culturas desenvolvidas, mas sabe-se muito pouco sobre elas porque não deixaram registros escritos. A Suméria, no entanto, deixou-nos um vasto legado: milhares de tabuinhas de argila escritas, onde tudo estava registrado (Literatura, Medicina, Astronomia, Mitologia, entre outros assuntos).

http://www.japassei.pt/ficheiros_materias/Hist%207.pdf

4. (1,0) **EXPLIQUE** o que motivou a invenção da escrita na Mesopotâmia.

5. (1,0) **APONTE** como era chamado o nome da forma de escrita na Mesopotâmia

Leia o texto e responda as questões 6 e 7

No campo da religiosidade, a Mesopotâmia poder ser vista como um “grande caldeirão” de crenças e divindades. Muitos desses deuses possuíam forma humana (masculina ou feminina) e geralmente tinham suas características vinculadas a elementos da natureza ou corpos celestes. Em diversas culturas poderíamos encontrar a presença de divindades comumente adoradas como Shamash (deus do Sol e da justiça), Anu (senhor dos céus), Sin (deusa da Lua) e Ishtar (deusa da guerra e do amor).

Influenciada pelos seus valores religiosos, a literatura mesopotâmica era repleta de mitos que explicavam a origem dos deuses e do mundo. A obra “O mito da criação” relata a origem do mundo graças aos feitos de Marduk, uma das principais divindades dos babilônios. Na “Epopéia de Gilgamesh” temos as desventuras do gigante que, em tempos remotos, teria controlado a cidade de Uruk. Segundo alguns estudiosos, algumas lendas contidas nesse livro são próximas às narrativas do Antigo Testamento.

<http://brasilecola.uol.com.br/historiag/mesopotamia-religiao-literatura.htm>

6. **EXPLIQUE** porque os povos da Mesopotâmia eram considerados politeístas.
7. Os sumérios, povo antigo que habitou a Mesopotâmia, destacou-se na construção de **zigurates**. **EXPLIQUE** o que eram estes zigurates.
8. **EXPLIQUE** a **diferença entre a religião** praticada pelos povos da Mesopotâmia e religião praticada pelos povos hebreus, conquistados e escravizados na época do domínio assírio.

Leia o texto e responda as questões 9 e 10

8. *Se um médico tratou, com uma faca de metal, a ferida grave de um homem e lhe causou a morte ou lhe inutilizou o olho, as suas mãos serão cortadas.*
9. *Se um medico tratou, com uma faca de metal, a ferida grave de um escravo e lhe causou a morte, ele dará escravo por escravo.[...]*
10. *Se um construtor fizer uma casa e esta não for sólida e caindo matar o dono, este construtor será morto.*
- Secretaria de estado de Esducação – SP. Coletânea de documentos históricos, de 5ª a 8ª s*

O texto acima possui trechos do código de Hamurabi. Uma compilação de leis criadas na Mesopotâmia, por volta do século XVIII a.C, pelo rei Hamurabi da primeira dinastia babilônica

9. **EXPLIQUE** qual a ideia principal dessas leis.
10. **EXPLIQUE** se todas as pessoas na sociedade tinham direitos iguais. Justifique sua resposta.

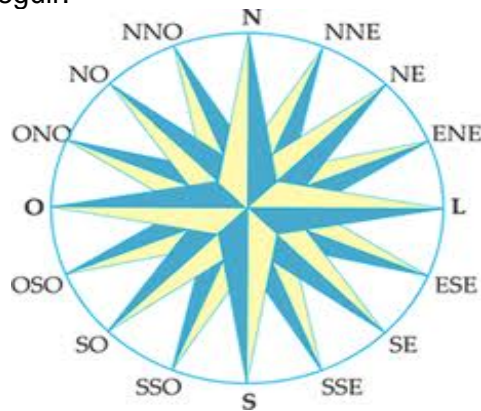


Colégio Qi

PARA A VALIDADE DO QID, AS RESPOSTAS DEVEM SER APRESENTADAS EM FOLHA PRÓPRIA, FORNECIDA PELO COLÉGIO, COM DESENVOLVIMENTO E SEMPRE A TINTA. TODAS AS QUESTÕES DE MÚLTIPLA ESCOLHA DEVEM SER JUSTIFICADAS.

DATA DE ENTREGA: 31 / 05 / 2017

1. (1,0) **OBSERVE** a imagem a seguir:



Faça agora o que se pede;

a) (0,5) **CITE** os pontos cardeais:

b) (0,5) **CITE** os pontos colaterais:

2. As estrelas do céu.

Sem equipamentos é possível orientar-se por alguns astros. Os astros sempre tiveram um papel importante na orientação de homens e mulheres ao longo da história, em particular nos deslocamentos de longa distância. Somente mais recentemente, no decorrer do século 20, com o avanço tecnológico mais acelerado, é que equipamentos, como o GPS, passaram a dispensar, praticamente, os astros na orientação.

OBSERVE a imagem a seguir:



Ela representa uma constelação visível para quem está no Hemisfério Sul e serve para encontrarmos a direção Sul.

EXPLIQUE, resumidamente, como podemos utilizá-la como referencial de orientação no espaço.

3. (1,0) **LEIA** com atenção:

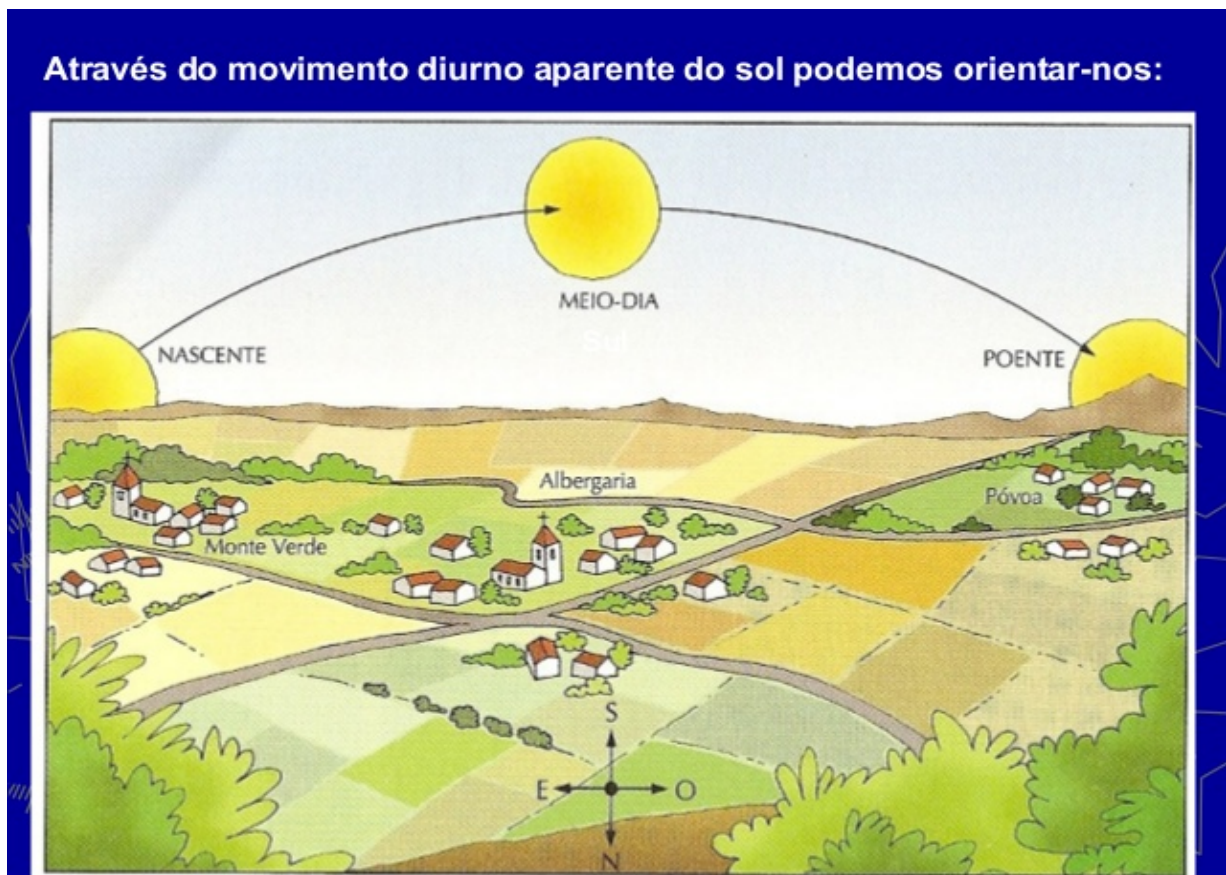
Não importa onde esteja na Terra, você pode segurar uma bússola e ela vai apontar sempre para o Pólo Norte. Imagine que está no meio do oceano, olhando em todas as direções e tudo o que consegue ver é água. O tempo está nublado e você não consegue ver o sol. Como saberia que caminho seguir se não tivesse uma bússola? Muito antes do GPS e outras tecnologias de navegação, a bússola oferecia aos seres humanos uma maneira fácil e acessível de se orientar.



© 2002 HowStuffWorks

EXPLIQUE por que a agulha da Bússola aponta sempre para a direção norte.

4. (1,0) **EXPLIQUE** o que se entende por Movimento Aparente do Sol.



5. A era dos descobrimentos - século XIV e XV – fez do Reino de Portugal e Espanha serem por um tempo as principais potências no mundo. Contudo, eles só puderam encontrar as novas terras e os novos caminhos comerciais para as Índias graças aos instrumentos de navegação criados e/ou aperfeiçoados na época.



(1,0) **EXPLIQUE** duas formas utilizadas pelos navegadores para orientar nos oceanos sem instrumentos como a bússola e o astrolábio.

6. **OBSERVE** as bandeiras a seguir:

Brasil



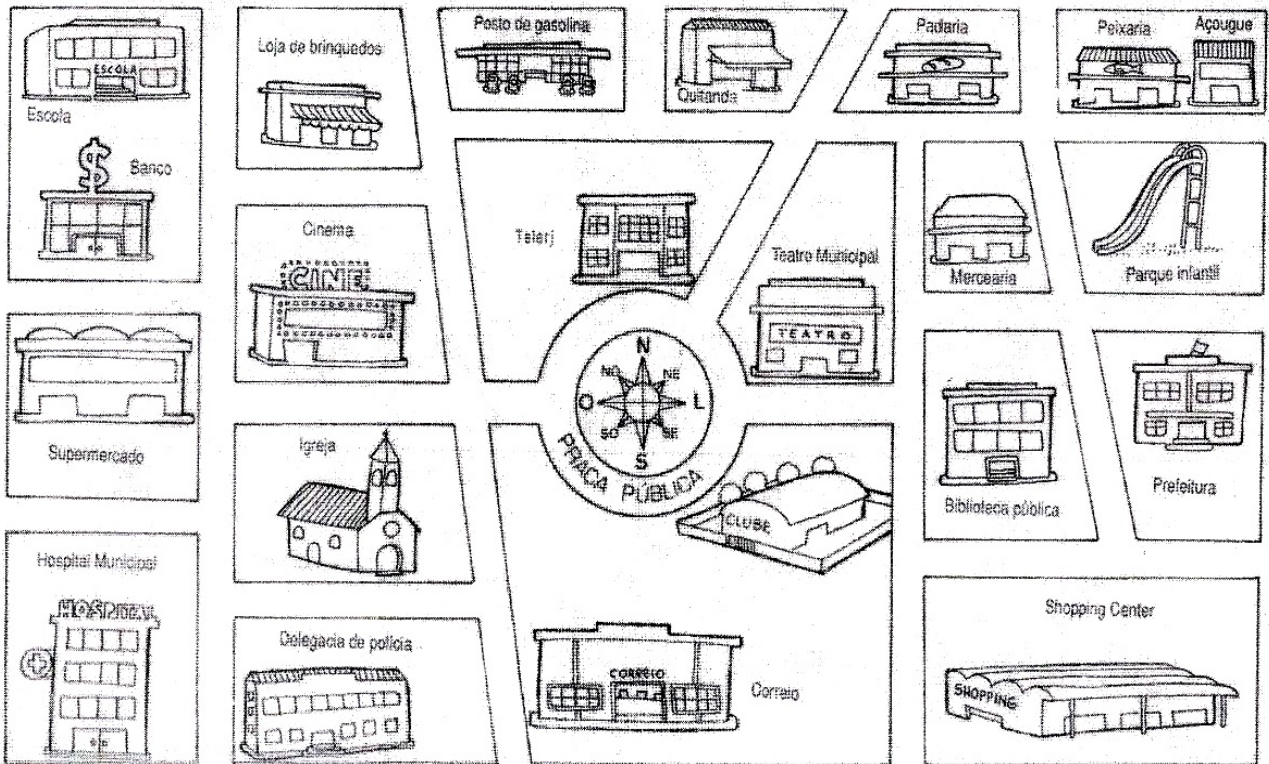
Austrália



Alguns países do mundo utilizam em seus símbolos nacionais – a bandeira – uma constelação. Esta constelação pode ser vista no Hemisfério Sul e no Hemisfério Norte, próximo a região da Linha do Equador.

(1,0) **APONTE** o nome desta constelação.

7. **OBSERVE** a imagem e responda:



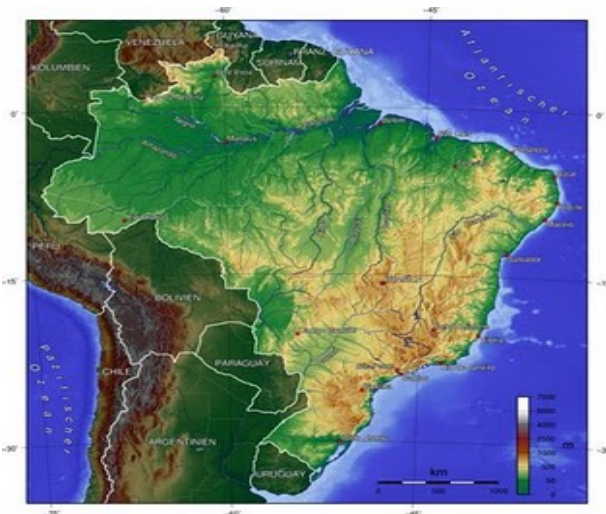
<http://3.bp.blogspot.com/-JTuziRa4eJc/ThBZ489kH7I/AAAAAAAAA7I/C6fuza2EEfc/s1600/Sem+t%25C3%25ADtulo.jpg>

a) (0,5) **INDIQUE** a direção a qual uma pessoa deve seguir saindo da Praça Pública em direção ao Shopping Center.

b) (0,5) Depois, **INDIQUE** a direção do Shopping até a peixaria

8. **INDIQUE** os tipos de mapa que estão representado a seguir:

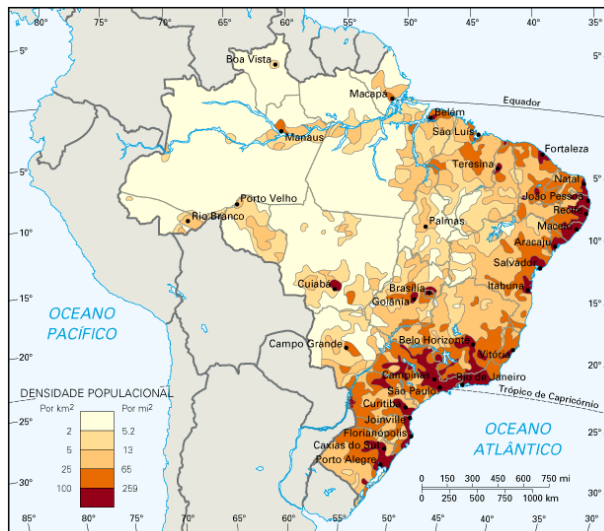
a) (0,25)



b) (0,25)



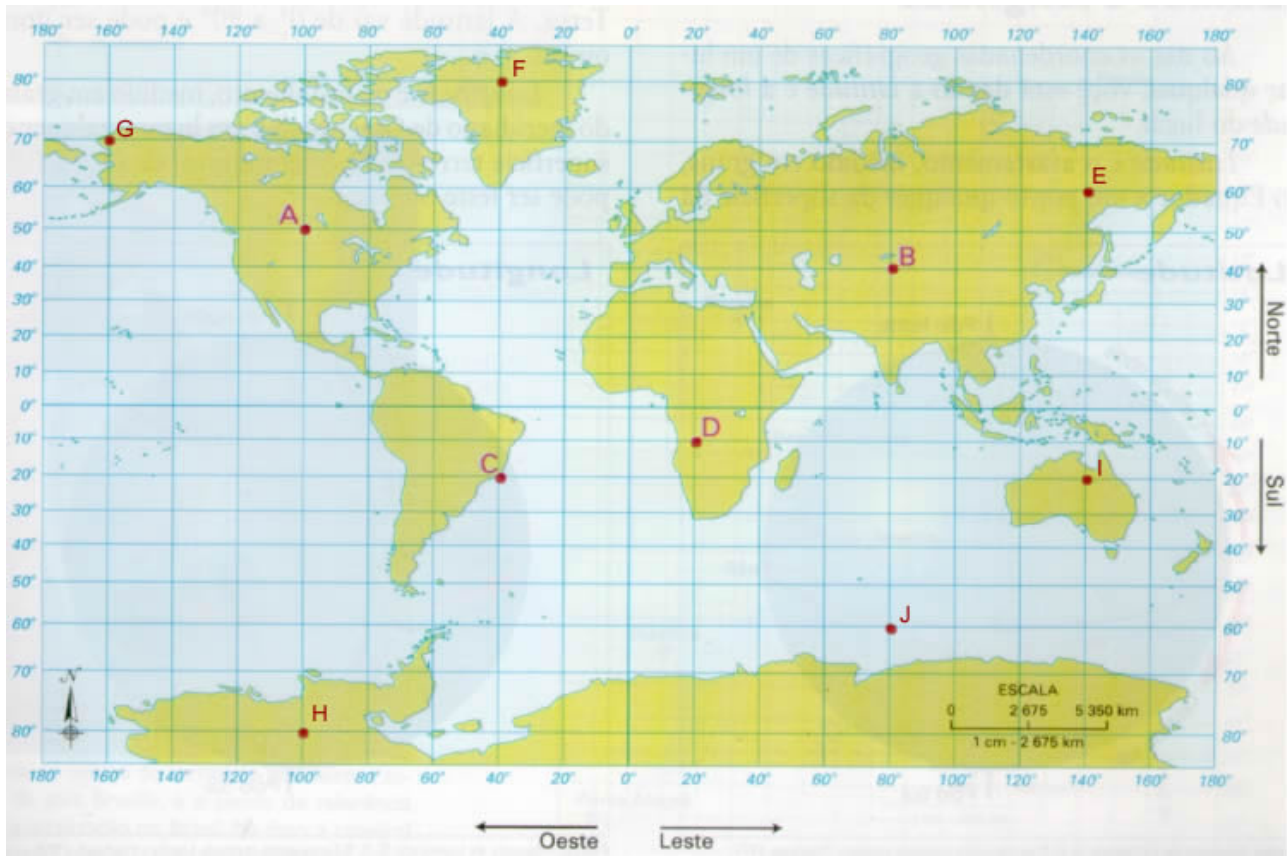
c) (0,25)



d) (0,25)



9. **OBSERVE** o mapa abaixo e **FAÇA** o que se pede:



INDIQUE a localização dos seguintes pontos:

LATITUDE	LONGITUDE
----------	-----------

(0,2) A –

(0,2) B –

(0,2) C –

(0,2) D –

(0,2) E –

(0,2) F - **INDIQUE** o nome da ilha onde se encontram estas coordenadas.

(0,2) G – **INDIQUE** o nome do estado americano onde se encontram estas coordenadas.

(0,2) H – **INDIQUE** o nome do continente onde se encontram estas coordenadas.

(0,2) I – **INDIQUE** o nome do país onde se encontram estas coordenadas.

(0,2) J – **INDIQUE** o nome do oceano onde se encontram estas coordenadas.