



Colégio Qi

PARA A VALIDADE DO QID, AS RESPOSTAS DEVEM SER APRESENTADAS EM FOLHA PRÓPRIA, FORNECIDA PELO COLÉGIO, COM DESENVOLVIMENTO E SEMPRE A TINTA. TODAS AS QUESTÕES DE MÚLTIPLA ESCOLHA DEVEM SER JUSTIFICADAS.

DATA DE ENTREGA: 05 / 07 / 2017

"O embaixador Christie não se conformava com as 'desobediências' do governo brasileiro."

1. (1,0) A frase acima se refere ao diplomata britânico William Dougal Christie, envolvido na chamada "Questão Christie". EXPLIQUE que fatos deram origem a essa questão.

"Acompanhei com vivo interesse a solução desse grave problema Compreendi que o contrabando não podia reerguer-se, desde que a vontade nacional estava ao lado do ministério que decretava a supressão de tão infame comércio. Reunir os capitais que se viam repentinamente deslocados do ilícito comércio e fazê-los convergir a um centro onde pudessem ir alimentar as forças produtivas do país, foi o pensamento que me surgiu na mente, ao ter certeza de que aquele fato era irrevogável. (...)"

(Visconde de Mauá. Autobiografia - Exposição aos credores e ao público. Rio de Janeiro: Topbooks, 1998.)

2. (1,0) O trecho acima é de 1878 onde Irineu Evangelista de Souza relembra sua ação empresarial no Segundo Reinado brasileiro. ESCLAREÇA qual o comércio ilícito Irineu Evangelista de Souza (Barão e Visconde de Mauá) faz referência?

3. (1,0) APONTE qual foi e o que estabeleceu a lei que revogou o referido comércio citado no trecho anterior.

"Mauá - O Imperador e o Rei é um filme brasileiro de 1999 com direção de Sérgio Rezende, e elenco integrado por Paulo Betti, Malu Mader, Hugo Carvana e Cláudio Corrêa e Castro entre outros. O filme mostra a infância, o enriquecimento e a falência de Irineu Evangelista de Sousa (1813–1889), o empreendedor gaúcho mais conhecido como barão de Mauá, considerado o primeiro grande empresário brasileiro."

(https://pt.wikipedia.org/wiki/Mauá_-_O_Imperador_e_o_Rei)

4. (1,0) EXEMPLIFIQUE como se revelou na prática a ação empresarial de Mauá.

5. (1,0) A orientação livre-cambista do Primeiro Reinado cedeu lugar ao protecionismo no Reinado de D. Pedro II. EXPLIQUE por que as tarifas aduaneiras devidas, principalmente, ao Ministro da Fazenda Manuel Alves Branco, são consideradas protecionistas, e por que a inovação chegou a ser combatida.

6. (1,0) EXPLIQUE por que surto industrial, ocorrido na segunda metade do século XIX no Brasil, ficou limitado e não provocou mudanças significativas e definitivas no perfil socioeconômico do período.

"A economia cafeeira foi o principal meio de acumulação de capital no Brasil durante o século XIX. " É na região do café que o desenvolvimento das relações capitalistas é mais acelerado e é aí que se encontra a maior parte da industrialização nascente brasileira."

(Silva, Sérgio. Expansão Cafeeira e Origens da Indústria no Brasil. São Paulo, Alfa-Omega, 1976.)

7. (1,0) EXPLIQUE as principais transformações resultantes da expansão cafeeira no Brasil imperial.

8. (1,0) APRESENTE dois motivos pelos quais o café se tornou o principal produto de exportação da economia brasileira na segunda metade do século XIX.

9. (1,0) No século XIX, a Inglaterra pressionou diversos países para acabar com o protecionismo comercial e com a existência do trabalho compulsório. Esta situação culminou, em 1845, com o "Bill Aberdeen". EXPLIQUE o que foi o "Bill Aberdeen".

"Tanto nos Estados Unidos como no Brasil, a política rural estava ligada a uma certa concepção de trabalho. Mas, enquanto a Lei Brasileira de 1850 dificultava a obtenção de terra pelo trabalhador livre, o "Homestead Act" de 1862, nos Estados Unidos era diferente".

(Adaptado de Emília Viotti da Costa, "Da Monarquia à República", Brasiliense, 1985)

10. (1,0) EXPLIQUE as diferenças fundamentais entre a Lei de Terras do Brasil e o "Homestead Act".



Colégio Qi

PARA A VALIDADE DO QiD, AS RESPOSTAS DEVEM SER APRESENTADAS EM FOLHA PRÓPRIA, FORNECIDA PELO COLÉGIO, COM DESENVOLVIMENTO E SEMPRE A TINTA. TODAS AS QUESTÕES DE MÚLTIPLA ESCOLHA DEVEM SER JUSTIFICADAS.

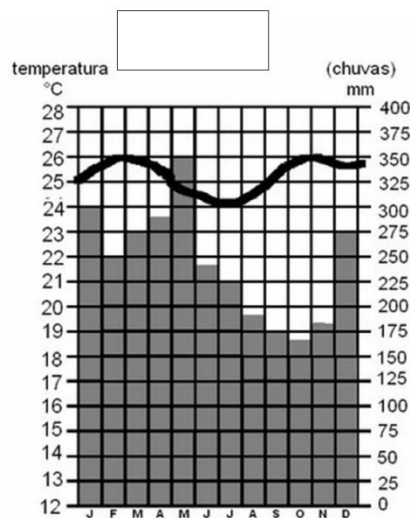
DATA DE ENTREGA: 05 / 07 / 2017

1. A letra da música de Jorge Ben afirma: “Moro num país tropical, abençoado por Deus e bonito por natureza”.

a) (0,5) **CHARACTERIZE** o clima tropical

b) (0,5) **APONTE** a diferença entre o tropical típico, tropical úmido e o tropical de altitude, encontrados no território brasileiro.

2. Analise o climograma a seguir



a) (0,5) **INDIQUE** a qual tipo climático ele pertence e **EXPLIQUE** suas características (índice pluviométrico e variação térmica).

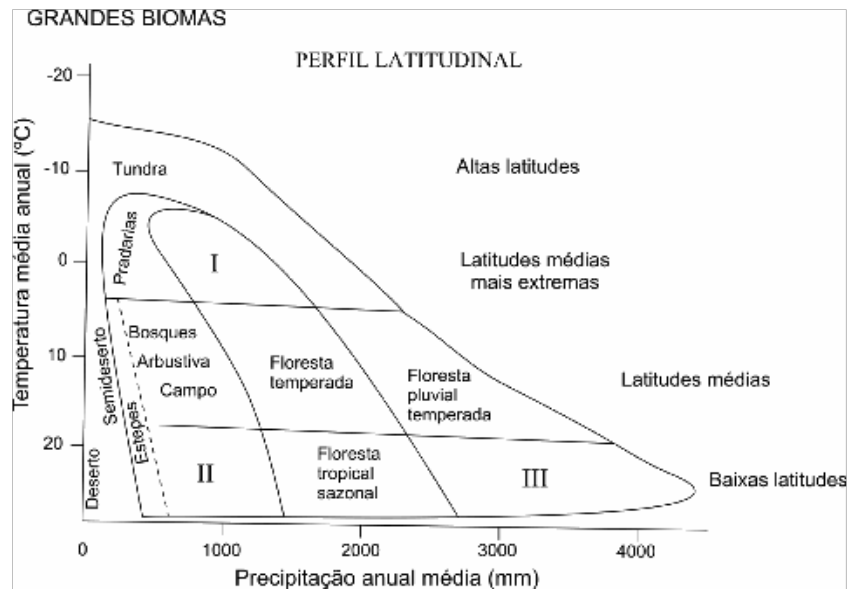
b) (0,5) **INDIQUE** a localização desse tipo de clima no Brasil

3. A imagem a seguir retrata uma paisagem típica do sertão nordestino.

Uma das explicações para a sua existência está relacionado a dinâmica das chuvas orográficas.

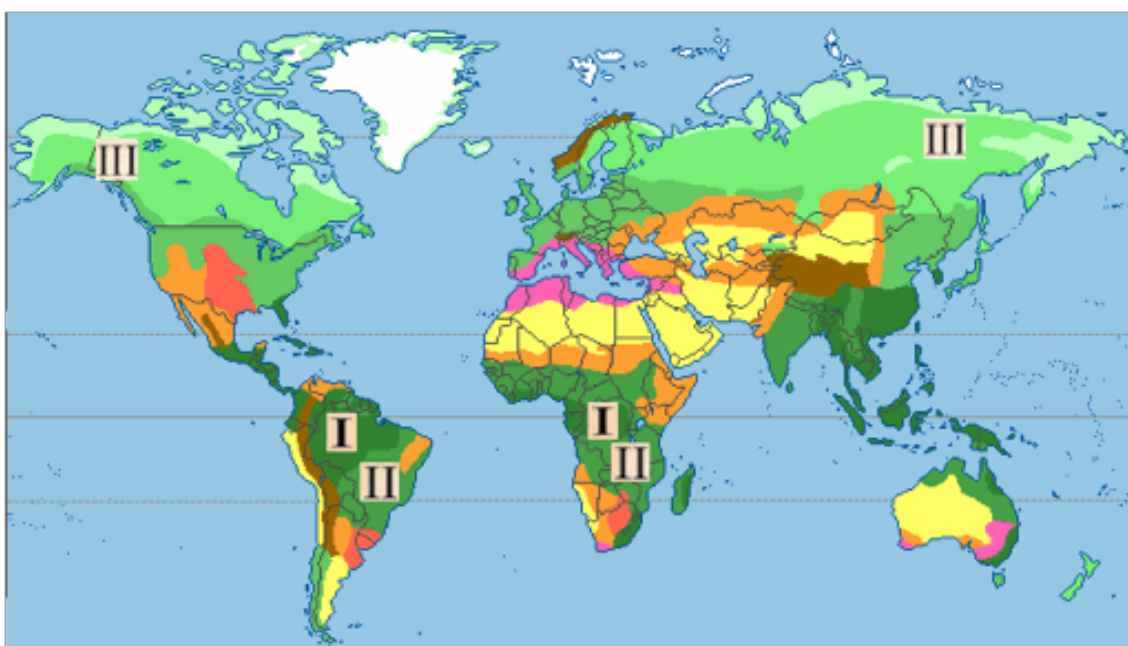


- a) (0,5) **EXPLIQUE** a dinâmica das chuvas orográficas.
- b) (0,5) **RELACIONE** a existência do clima semiárido no nordeste brasileiro com a esse tipo de chuva.
4. A ocorrência de um mesmo bioma em continentes distintos é determinada principalmente pelas condições de latitude, de temperatura e de precipitação.



Com base no gráfico e nos conhecimentos sobre os biomas terrestres.

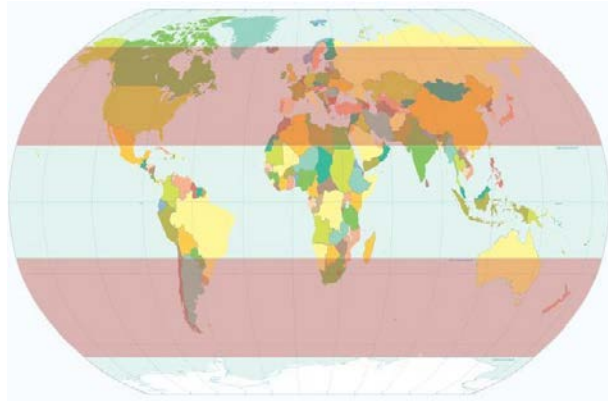

- a) (0,5) **IDENTIFIQUE** os biomas indicados por I, II e III.
- b) (0,5) **RELACIONE** duas características ambientais encontradas, respectivamente, nos biomas II e III, no território brasileiro.
5. O mapa abaixo mostra a distribuição global do fluxo de carbono. As regiões indicadas pelos números I, II e III são, respectivamente, regiões de alta, média e baixa absorção de carbono.



(Extraído de Beer et al. Science, 329:834-838, 2010.)

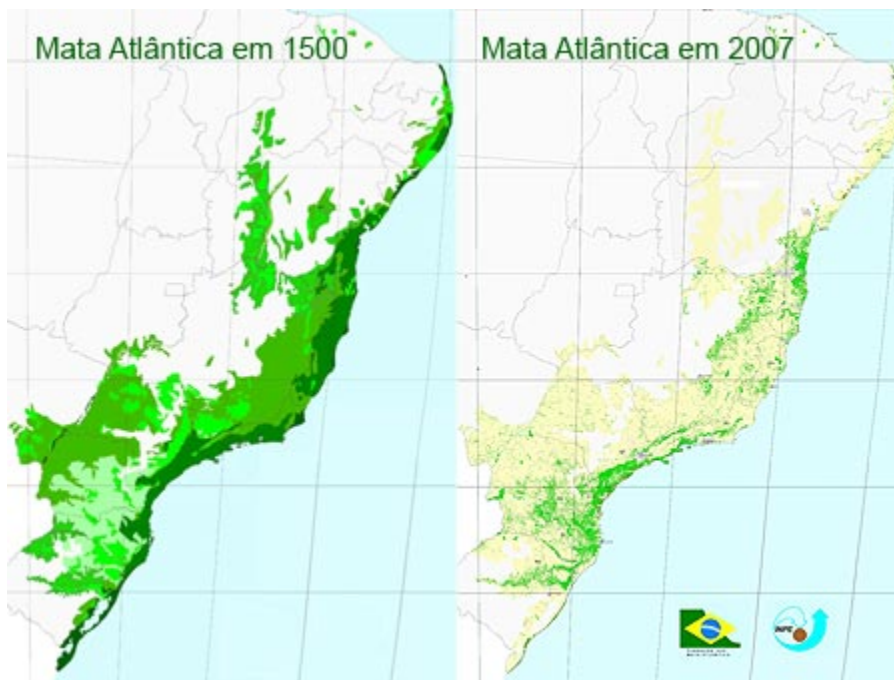
Com base no mapa anterior e considerando-se as referidas regiões:

- a) (0,5) **IDENTIFIQUE** os respectivos tipos de vegetação representados pelos números I, II e III.
 - b) (0,5) **APRESENTE** duas características da região I e III do mapa.
6. (1,0) Observe a imagem a seguir e a localização do tipo climático.



A partir dessas informações, **IDENTIFIQUE** a qual tipo climático ela se refere. **JUSTIFIQUE** sua resposta.

7. A Mata Atlântica é uma das vegetações mais desmatadas do Brasil.

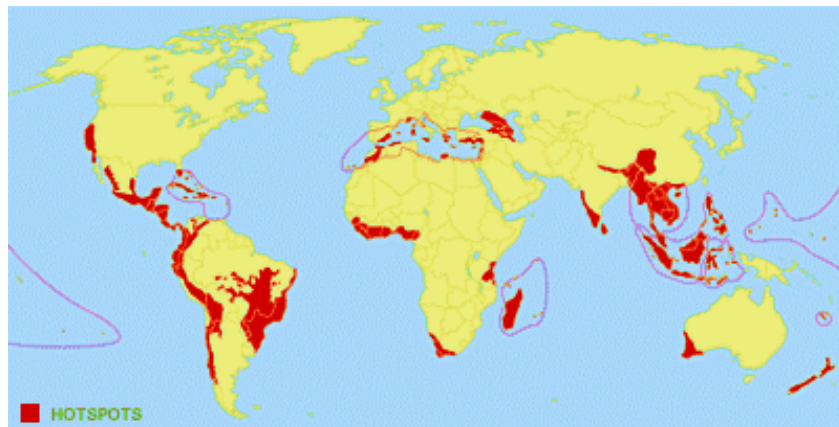


- a) (0,5) **CARACTERIZE** a vegetação Mata Atlântica
- b) (0,5) **EXPLIQUE** 2 situações que impulsionaram este desmatamento.

8. “De origem bastante discutida, essa formação é característica das áreas onde o clima apresenta duas estações bem marcadas: uma seca e outra chuvosa, como no Planalto Central. Ela apresenta 2 estratos nítidos: uma arbóreo-arbustivo, onde as espécies tortuosas têm os caules geralmente revestidos de casca espessa, e outro herbáceo, geralmente dispostos em tufos”.
- a) (0,5) **IDENTIFIQUE** o tipo de vegetação descrita pelo texto
- b) (0,5) **EXPLIQUE** por que a vegetação adaptada a este tipo climático possui como características os galhos retorcidos e uma baixa altura.
9. Na história do Rio de Janeiro, o ecossistema Mangue era considerado como algo ruim e que deveria ser escondido (aterrado) devido ao seu forte odor e aparência.



- a) (0,5) **CHARACTERIZE** o bioma mangue
- b) (0,5) **EXPLIQUE** qual a importância da manutenção deste ecossistema.
10. Observe o mapa abaixo.



<http://www.ceneducursos.com.br/hotspots-conservacao-biodiversidade.html#prettyPhoto/0/>

- a) (0,5) **DEFINA** hotspots
- b) (0,5) **IDENTIFIQUE** os casos de *hotspot* em território brasileiro e **EXPLIQUE** as causas de sua existência.